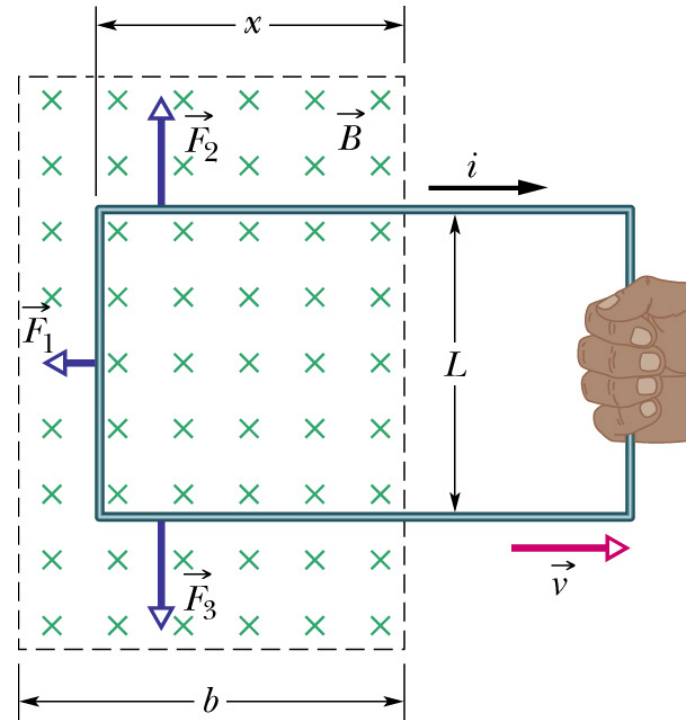
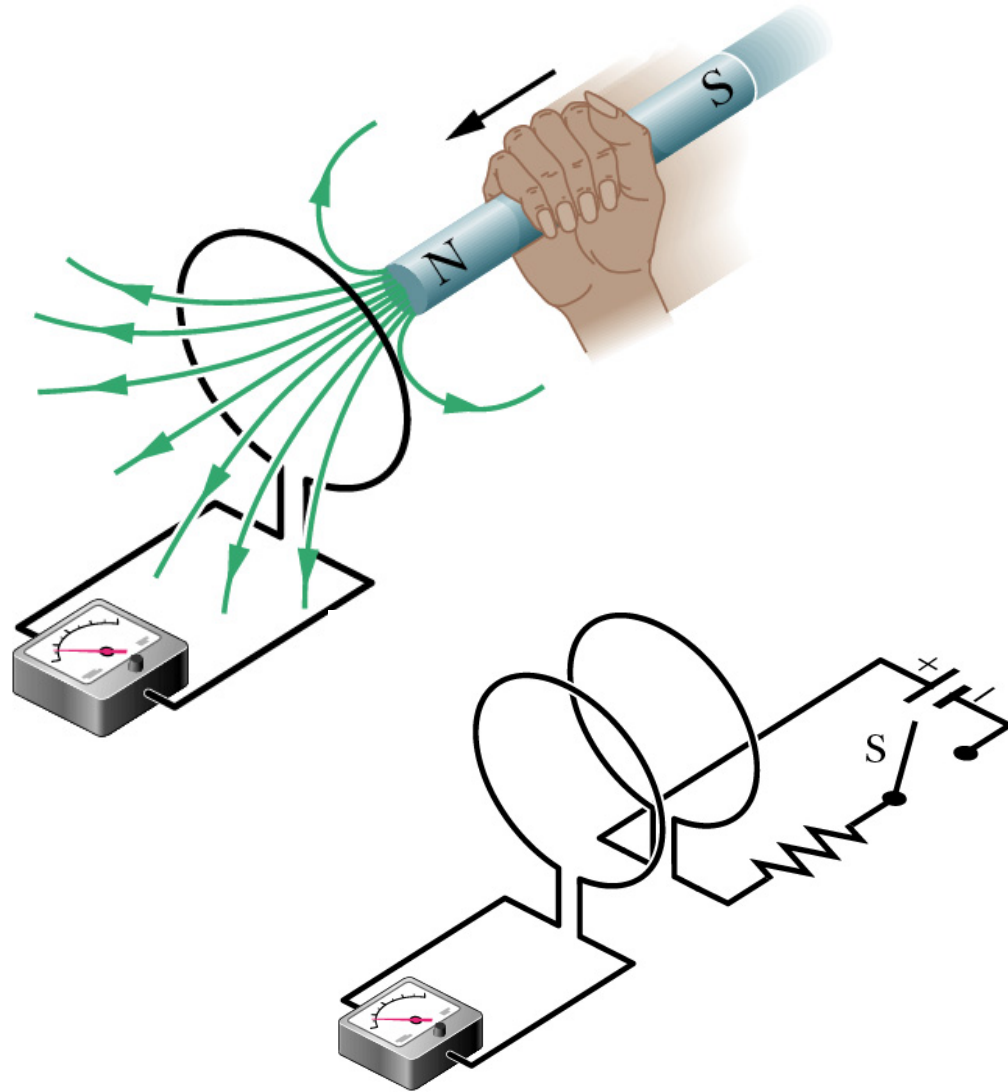


RÓWNANIA MAXWELLA

Czy pole magnetyczne może stać się źródłem pola elektrycznego?

Czy pole elektryczne może stać się źródłem pola magnetycznego?

Doświadczenia



PRAWO FARADAY'A

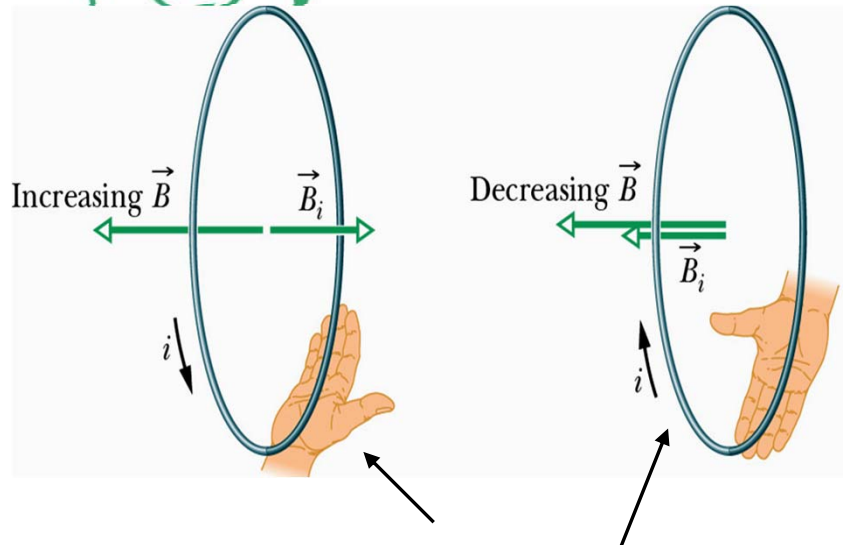
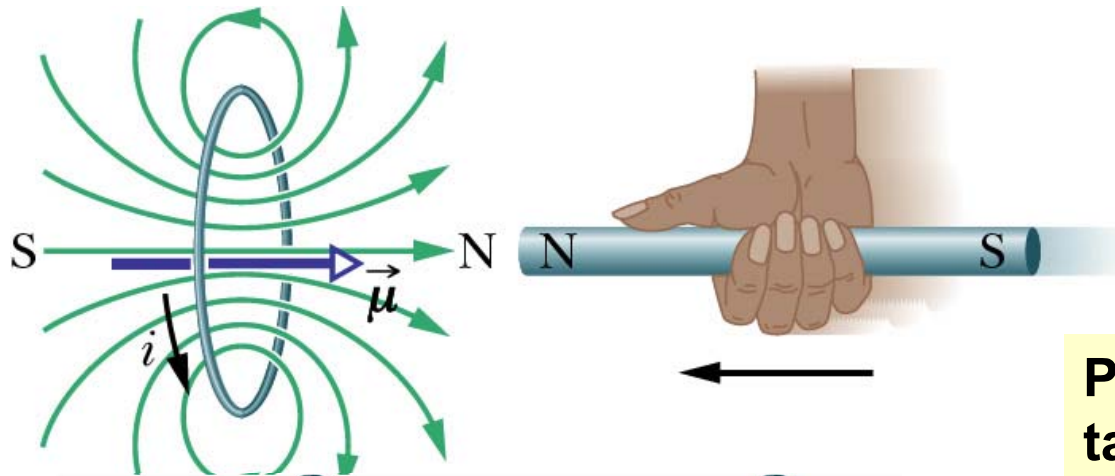
Zmienny w czasie strumień indukcji pola magnetycznego Φ_B indukuje siłę elektromotoryczną ε

$$\varepsilon = -\frac{d\Phi_B}{dt}$$

Im większa szybkość zmian strumienia pola magnetycznego tym większa siła elektromotoryczna.

Znak „-” pokazuje, że powstały efekt przeciwdziała zmianom, które były jego przyczyną (reguła przekory, reguła Lenza).

REGUŁA LENZA



\vec{B}_i związane z indukowanym prądem i

Prąd indukowany płynie w takim kierunku, że pole magnetyczne wytworzone przez ten prąd przeciwdziała zmianie strumienia pola magnetycznego, która ten prąd indukuje

Przypomnienie:

Strumień indukcji pola magnetycznego jest zdefiniowany jako całka po powierzchni S:

$$\Phi_B = \int_S \vec{\mathbf{B}} \circ d\vec{\mathbf{A}}$$

a zatem istnieją trzy zasadnicze sposoby uzyskania indukowanej siły elektromotorycznej:

- zmiana indukcji pola B,
- zmiana powierzchni S,
- zmiana kąta pomiędzy B i wektorem powierzchni (obrót ramki w polu magnetycznym – prądnicą)

Przypomnienie: siła elektromotoryczna jest pracą przypadającą na jednostkowy ładunek wykonaną przez pole elektryczne (pole magnetyczne nie wykonuje pracy)

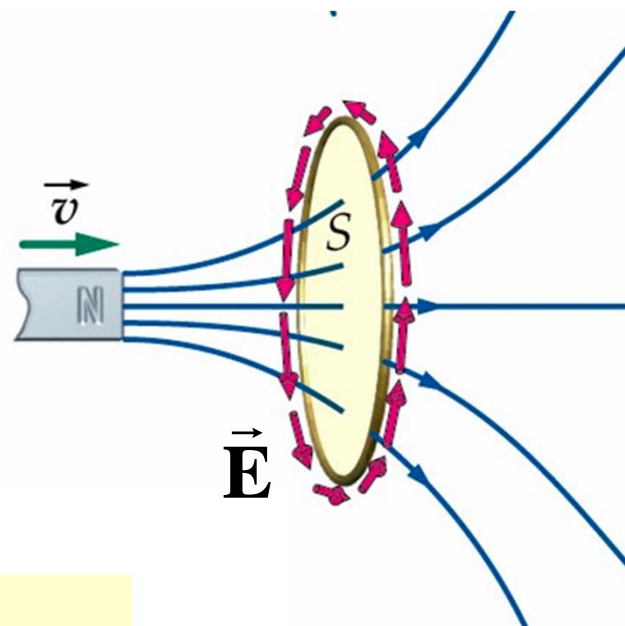
$$\varepsilon = \oint_C \vec{E} \circ d\vec{l}$$

Indukowana siła elektromotoryczna jest związana z pracą indukowanego pola elektrycznego a zatem

$$\oint_C \vec{E} \circ d\vec{l} = -\frac{d\Phi_B}{dt}$$

oraz

$$\oint_C \vec{E} \circ d\vec{l} = -\frac{d}{dt} \int_S \vec{B} \circ d\vec{A}$$



Taka postać prawa Faraday'a stanowi kolejne z równań Maxwella w postaci całkowej

Własności indukowanej siły elektromotorycznej

- Indukowana SEM nie jest zlokalizowana, (pomiędzy biegunami źródła napięcia), lecz jest rozłożona w całym obwodzie.
- Można ją przedstawić jako całkę krzywoliniową po zamkniętym konturze z indukowanego pola elektrycznego.
- Całka ta jest różna od zera, więc indukowane pole elektryczne nie jest zachowawcze.
- Pole to nie ma potencjału ani powierzchni ekwipotencjalnych.
- Jeżeli w obszarze indukowanego pola elektrycznego umieścimy przewodnik i obwód zamkniemy, to zaobserwujemy indukowany prąd elektryczny. W przeciwnym przypadku można mówić tylko o sile elektromotorycznej.
- Dyssypacja energii zachodzi, gdy obecne są ładunki.

Postać różniczkowa prawa Faraday'a

z twierdzenia Stokes'a

$$\oint_C \vec{\mathbf{E}} \circ d\vec{\mathbf{l}} = \int_S (\text{rot } \vec{\mathbf{E}}) \circ d\vec{\mathbf{A}}$$

z prawa Faraday'a w postaci całkowej

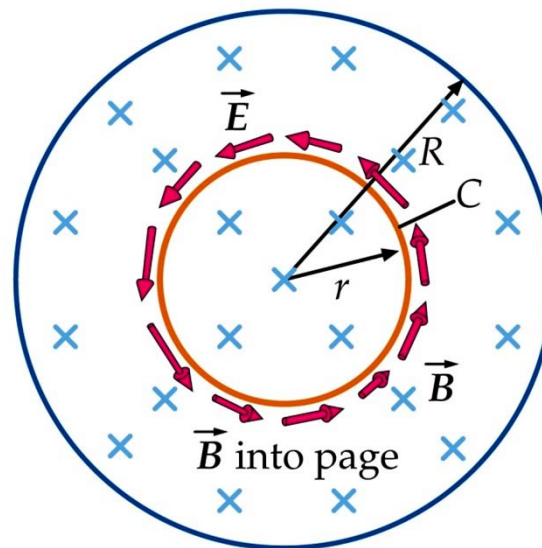
$$\oint_C \vec{\mathbf{E}} \circ d\vec{\mathbf{l}} = -\frac{d}{dt} \int_S \vec{\mathbf{B}} \circ d\vec{\mathbf{A}}$$

$$\text{rot } \vec{\mathbf{E}} = -\frac{\partial \vec{\mathbf{B}}}{\partial t}$$

Zmienne w czasie pole magnetyczne indukuje pole elektryczne (wirowe, zmienne w czasie, nie zachowawcze)

Przykład 9.1

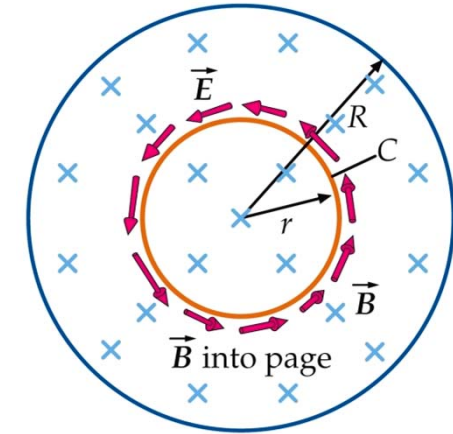
W pewnym kołowym obszarze o promieniu R istnieje jednorodne pole magnetyczne, którego wektor indukcji jest prostopadły do płaszczyzny rysunku. Wartość indukcji pola magnetycznego zmienia się w czasie z szybkością dB/dt . Jaka jest wartość i kierunek wektora pola elektrycznego indukowanego na płaszczyźnie tego obszaru kołowego w odległości r od jego środka? Rozważyć przypadki $r < R$ i $r > R$.



Rozwiązanie:

z prawa Faraday'a

$$\oint_C \vec{E} \circ d\vec{l} = -\frac{d}{dt} \int_S \vec{B} \circ d\vec{A}$$



obliczamy krążenie pola elektrycznego

$$\oint_C \vec{E} \circ d\vec{l} = E 2 \pi r$$

dla $r > R$

strumień pola magnetycznego

$$\int_S \vec{B} \circ d\vec{A} = B \pi R^2$$

a zatem

$$E 2 \pi r = -\pi R^2 \frac{dB}{dt}$$

$$E = -\frac{R^2}{2r} \frac{dB}{dt}$$

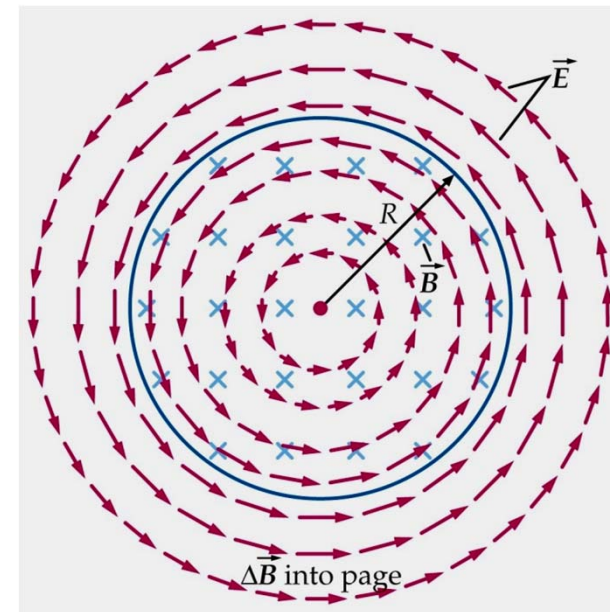
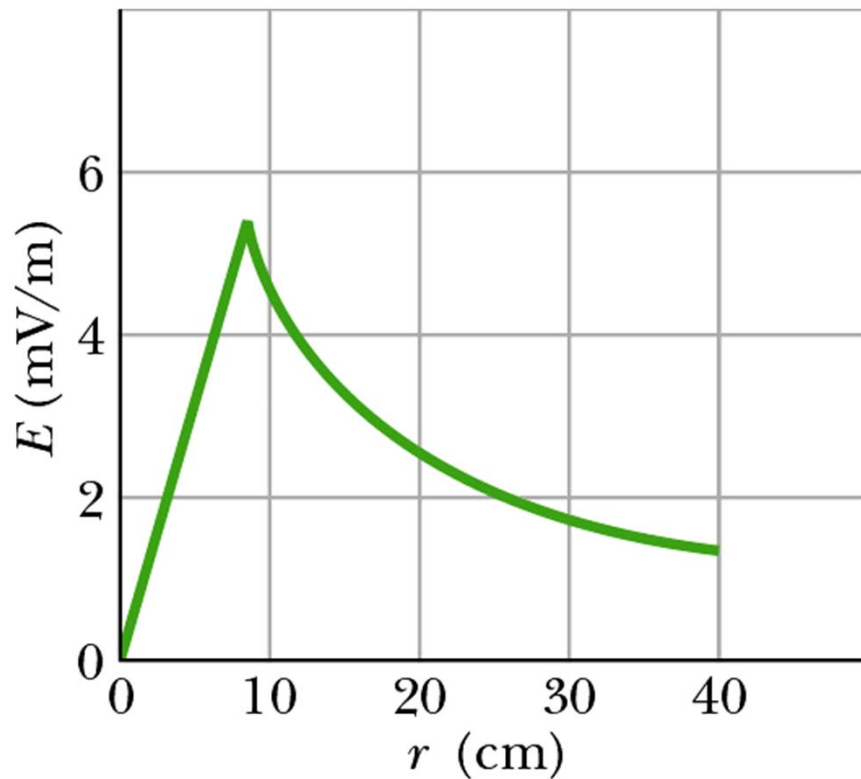
dla $r < R$

strumień pola
magnetycznego

$$\int_S \vec{B} \circ d\vec{A} = B \pi r^2$$

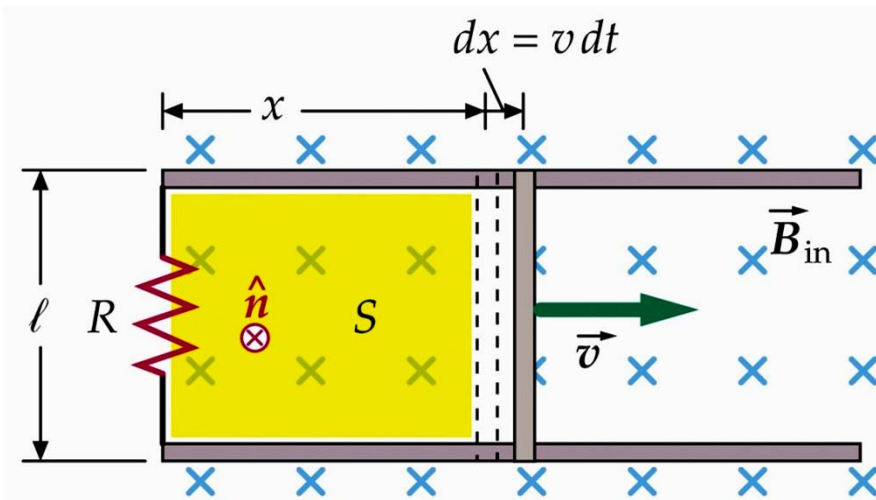
a zatem
$$E 2 \pi r = -\pi r^2 \frac{dB}{dt}$$

$$E = -\frac{r}{2} \frac{dB}{dt}$$



Zadanie domowe 9.1

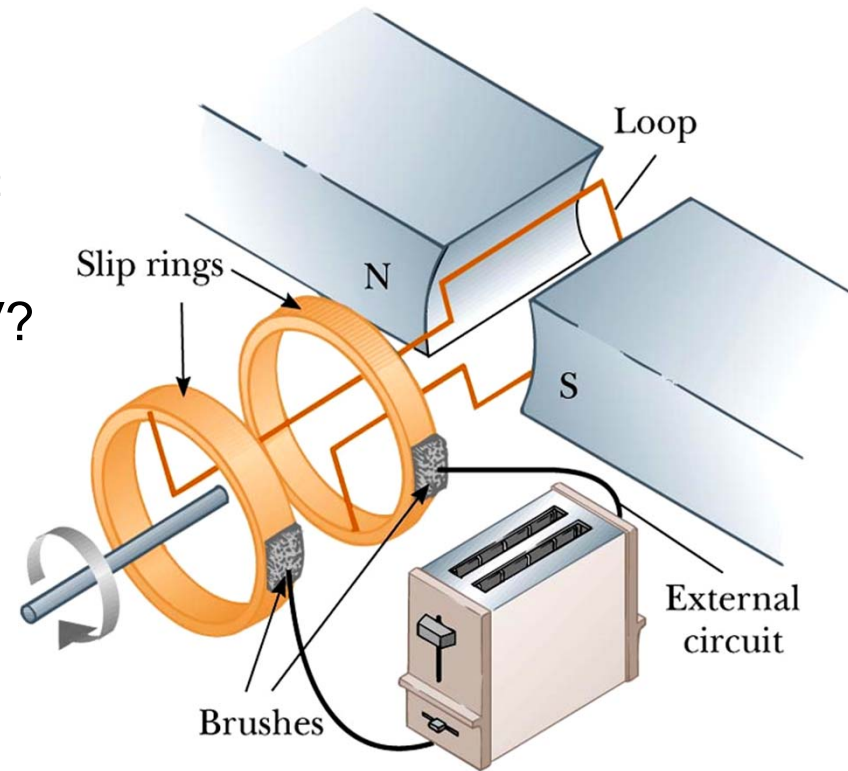
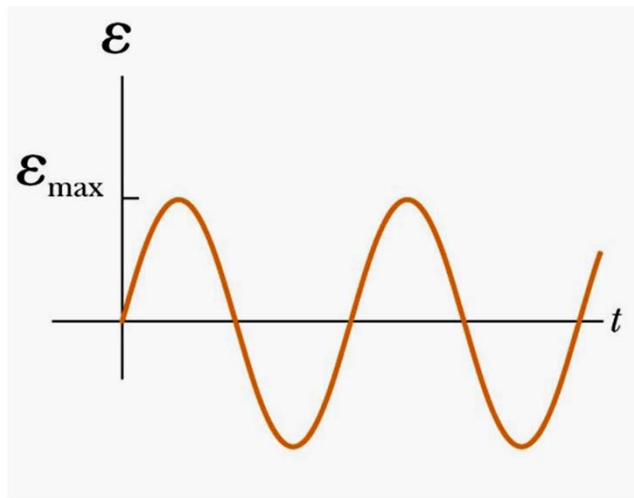
- Znaleźć wartość siły elektromotorycznej indukowanej w obwodzie przedstawionym na rysunku. Pręt przesuwany jest w jednorodnym, stałym w czasie polu magnetycznym ze stałą prędkością v . Jaka jest wartość prądu w obwodzie? Jaka moc wydziela się na rezystancji R ?



Zadanie domowe 9.2

- Generator prądu AC (prądnicą)

Cewka kołowa o promieniu $R=20$ cm zawiera $N=20$ zwojów. Jak szybko cewka musi obracać się w polu magnetycznym o indukcji $B=0.2$ Wb/m² aby maksymalna (szczytowa) wartość siły elektromotorycznej wynosiła 160 V?



SAMOINDUKCJA

Jeżeli prąd w obwodzie zmienia się w czasie, strumień pola magnetycznego w cewce też jest zmienny i indukowana siła elektromotoryczna przeciwdziała zmianom prądu.

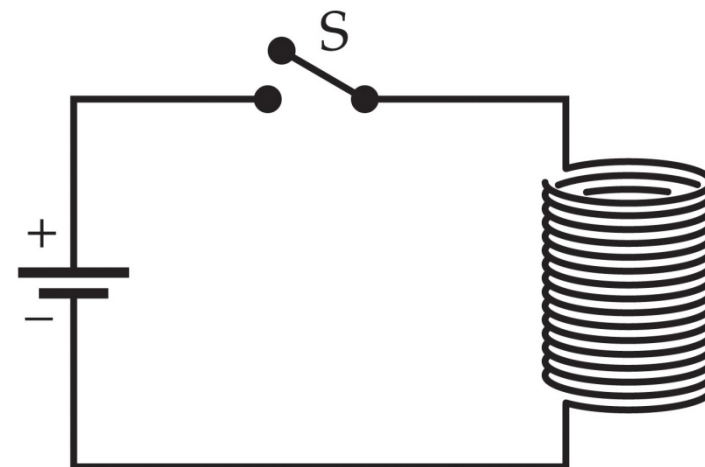
wewnątrz idealnego solenoidu o N zwojach i długości l

$$B = \mu_0 \frac{N}{l} i$$

strumień pola magnetycznego przez powierzchnię NS (S -powierzchnia jednego zwoju)

$$\Phi_B = \mu_0 \frac{N^2}{l} i S$$

$$\Phi_B = Li$$



Jednostka: 1H (henr) = 1Wb/A

indukcyjność

Siła elektromotoryczna samoindukcji

$$\varepsilon_L = -\frac{d\Phi_B}{dt} = -\mu_0 \frac{N^2}{l} S \frac{di}{dt} = -\mu_0 n^2 l S \frac{di}{dt}$$

n- liczba zwojów na jednostkę długości, **l** – długość solenoidu, **S** – pole powierzchni przekroju

$$\varepsilon_L = -L \frac{di}{dt}$$

W obwodzie LC można zastosować prawo Kirchhoffa:



$$L \frac{di}{dt} + \frac{q}{C} = 0 \quad \longrightarrow \quad L \frac{d^2q}{dt^2} + \frac{q}{C} = 0$$

INDUKCYJNOŚĆ

Definicja:

$$L = -\frac{\varepsilon_L}{\frac{di}{dt}}$$

Przypomnienie: pojemność C

$$C = \frac{Q}{U}$$

dla idealnego solenoidu

$$L = \mu_0 \frac{N^2}{l} S$$

dla kondensatora płaskiego

$$C = \varepsilon_0 \frac{A}{d}$$

Indukcyjność podobnie jak pojemność zależy wyłącznie od parametrów geometrycznych cewki. Można ją zwiększyć przez wprowadzenie rdzenia ferromagnetycznego o przenikalności magnetycznej μ .

$$L = \mu_0 \mu \frac{N^2}{l} S = \mu_0 \mu n^2 l S$$

Zadanie domowe 9.3

- Opracować temat: energia zmagazynowana w polu magnetycznym i gęstość energii pola magnetycznego (HRW, t.3, 31.10,31.11).
- Przemyśleć analogie do pola elektrycznego w kondensatorze.

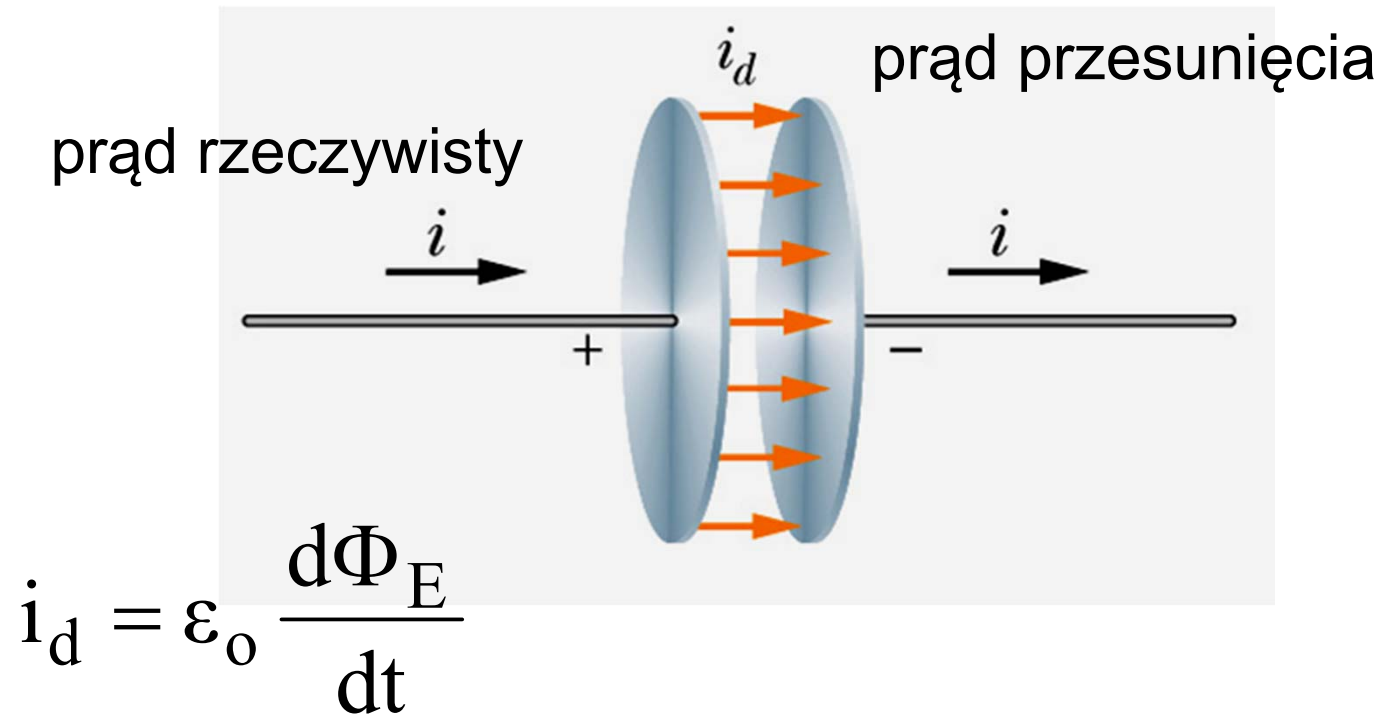
PRAWO AMPERE'A-MAXWELLA

- Maxwell rozszerzył prawo Ampere'a
- Źródłem pola magnetycznego jest nie tylko rzeczywisty prąd w obwodzie lecz również zmienny w czasie strumień pola elektrycznego

$$\oint_C \vec{\mathbf{B}} \circ d\vec{\mathbf{l}} = \mu_0 \left(i + \underbrace{\varepsilon_0 \frac{d\Phi_E}{dt}} \right)$$

prąd przesunięcia i_d

- Wprowadzenie pojęcia prądu przesunięcia pozwala zachować ciągłość prądu w obwodzie nawet gdy obecny jest kondensator



RÓWNANIA MAXWELLA

Prawo:	Postać całkowa	Postać różniczkowa
Gausa dla elektrostatyki	$\oint_S \vec{E} \circ d\vec{A} = \frac{q}{\epsilon_0}$	$\operatorname{div} \vec{E} = \frac{\rho}{\epsilon_0}$
Gausa dla magnetyzmu	$\oint_S \vec{B} \circ d\vec{A} = 0$	$\operatorname{div} \vec{B} = 0$
Ampere'a-Maxwella	$\oint_C \vec{B} \circ d\vec{l} = \mu_0 \left(i + \epsilon_0 \frac{d\Phi_E}{dt} \right)$	$\operatorname{rot} \vec{B} = \mu_0 \left(\vec{j} + \epsilon_0 \frac{\partial \vec{E}}{\partial t} \right)$
Faraday'a	$\oint_C \vec{E} \circ d\vec{l} = - \frac{d\Phi_B}{dt}$	$\operatorname{rot} \vec{E} = - \frac{\partial \vec{B}}{\partial t}$

Podsumowanie

- Zmienne w czasie pole magnetyczne jest źródłem pola elektrycznego (prawo Faraday'a)
- Indukowane pole elektryczne nie jest zachowawcze, jest polem wirowym o niezerowej rotacji
- Zmienne w czasie pole elektryczne jest źródłem pola magnetycznego (poprawka Maxwella do prawa Ampère'a)
- Równania Maxwella w próżni mają charakter symetryczny dla obu pól
- Równania Maxwella przewidują istnienie fali elektromagnetycznej, która rozchodzi się w próżni z prędkością c