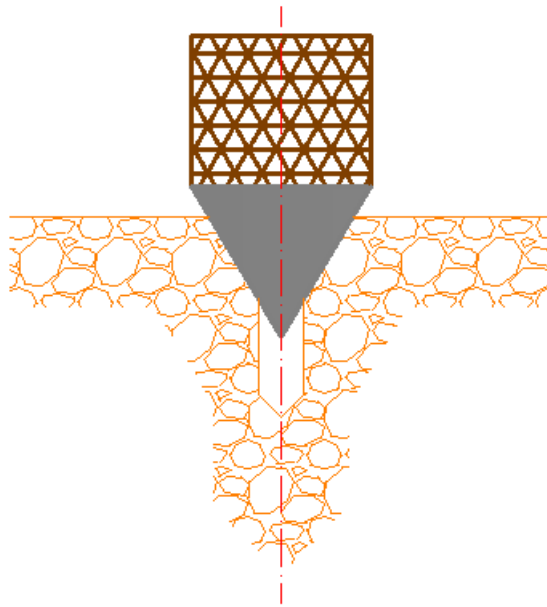


## Zestaw nr 6

### Praca z warstwami

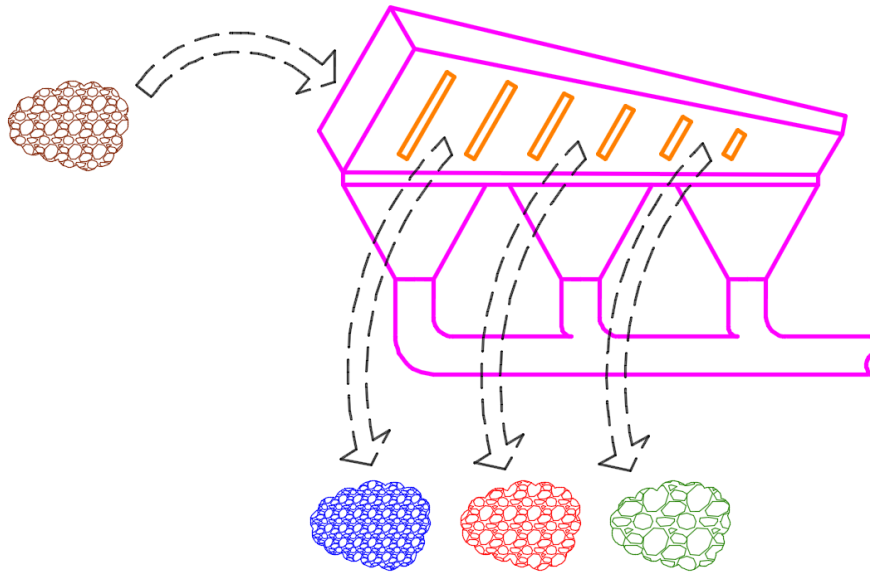
- warstwy, kreskowanie -

#### 1. Narysuj w dowolnych wymiarach



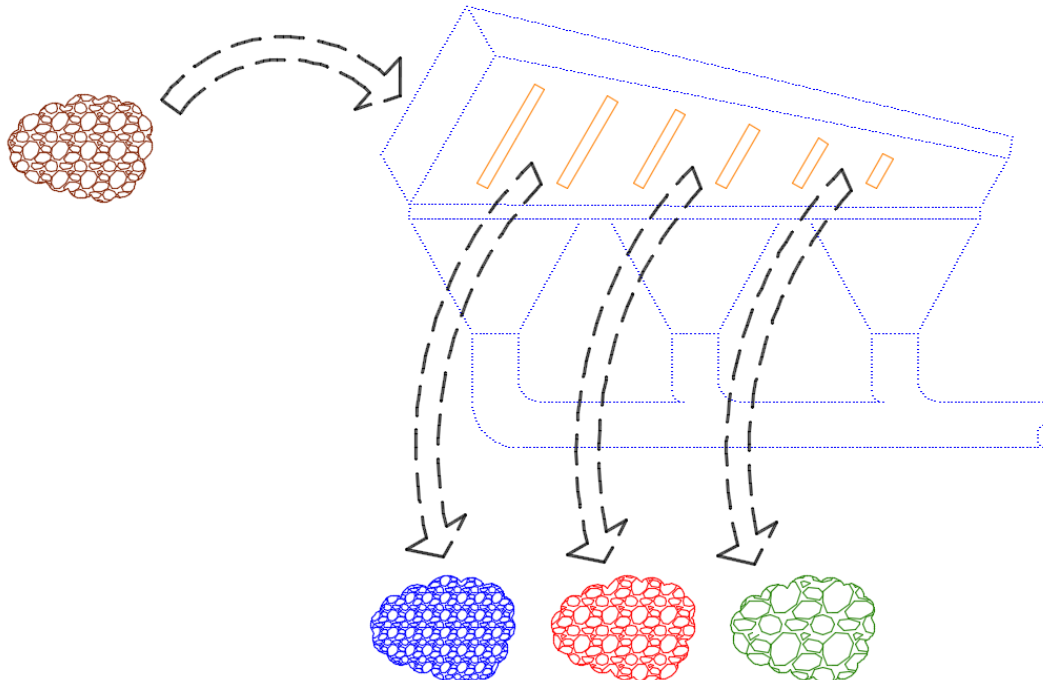
#### 2. Stwórz następujące warstwy i narysuj schemat separatora

Nazwa	Kolor	Rodzaj linii	Szerokość linii	Przezroczy...
Produkt 1	niebieski	Continuous	0.20 mm	0
Produkt 2	czerwony	Continuous	0.20 mm	0
Produkt 3	84	Continuous	0.20 mm	0
Progí	30	Continuous	0.40 mm	0
Separator	fioletowy	Continuous	0.50 mm	0
Strzałki	biały	KRESKOWAX2	0.30 mm	30
Surowiec	24	Continuous	0.20 mm	0

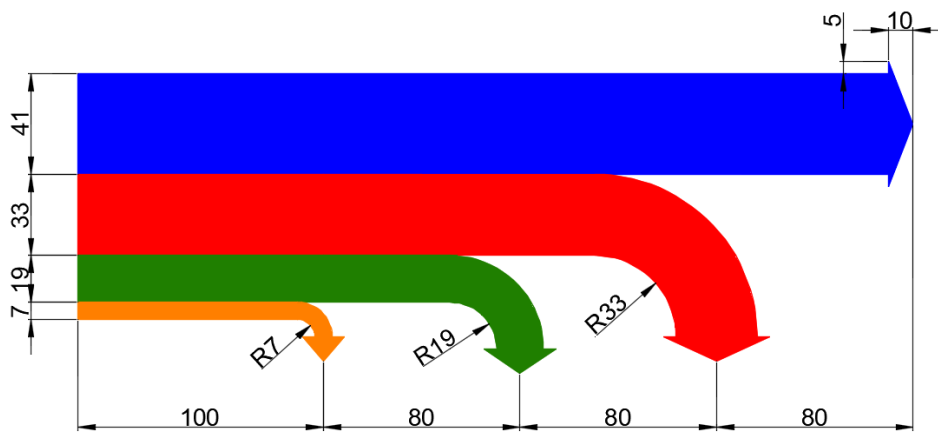


### 3. Zmodyfikuj rysunek z zadania 2

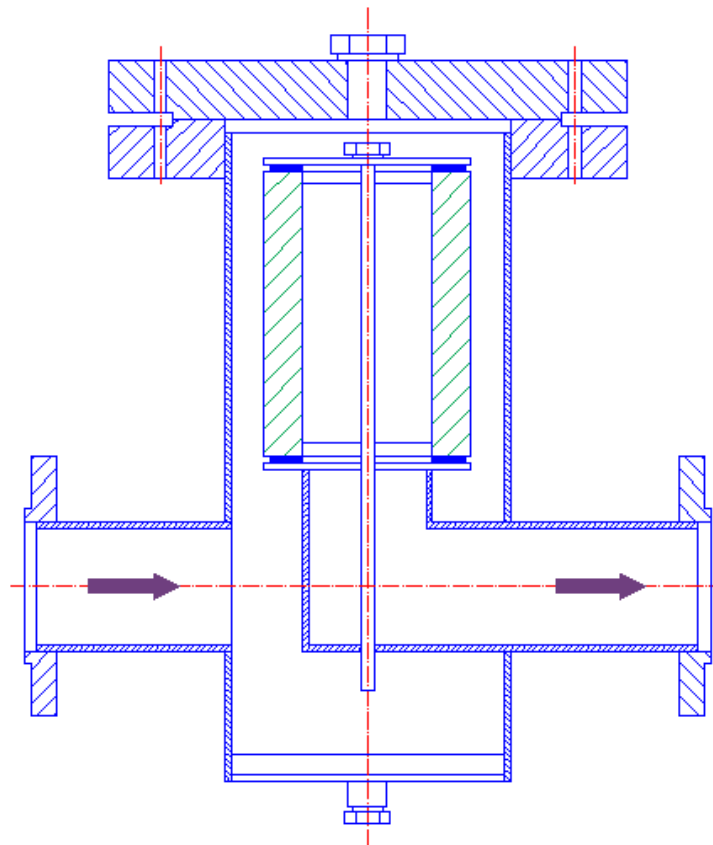
- Skopiuj rysunek z zadania 2
- stwórz nową warstwę (kolor niebieski, linia kropkowa, szerokość 0,35mm)
- przyporządkuj separatorowi nową warstwę



#### 4. Narysuj wykres Sankeya



#### 5. Narysuj przekrój filtra gazu



Wymiary nakrętek i podkładek:

- rozmiar większej nakrętki:  $\phi 50 \times 15$
- rozmiar większej podkładki:  $\phi 46 \times 5$
- rozmiar mniejszej nakrętki:  $\phi 30 \times 9$
- rozmiar mniejszej podkładki:  $\phi 24 \times 3$

